

### 第33回 問題55

国民年金に関する次の記述のうち、正しいものを1つ選びなさい。

- 1 国民年金の第一号被保険者の保険料は、前年の所得に比例して決定される。
- 2 障害基礎年金を受給していると、国民年金の保険料納付は免除される。
- 3 学生納付特例制度の適用を受けた期間は、老齢基礎年金の受給資格期間には算入されない。
- 4 自営業者の配偶者であって無業の者は、国民年金の第三号被保険者となる。
- 5 障害基礎年金には、配偶者の加算がある。

### 第31回 問題52

年金保険に関する次の記述のうち、最も適切なものを1つ選びなさい。

- 1 離婚した場合、当事者の合意又は裁判所の決定があれば、婚姻期間についての老齢基礎年金の分割を受けることができる。
- 2 老齢基礎年金は、25年間保険料を納付して満額の支給が受けられる。
- 3 老齢基礎年金は、65歳以降75歳まで支給開始を遅らせることができ、この場合、年金額の増額がある。
- 4 障害基礎年金は、障害認定日に1級、2級又は3級の障害の状態にあるときに支給される。
- 5 国民年金の第一号被保険者を対象とする独自の給付として、付加年金がある。

### <障害児者の所得補償（月額）>

手当、年金	条件	～15歳	16～18～	20歳～	所得制限	入所の場合	物価スライド制
児童手当	全ての児童	1～1.5万円 (子供の数による)	<ul style="list-style-type: none"> <li>・3歳未満:一律1.5万円</li> <li>・3歳以上:1万円 (第3子以降は1.5万円)</li> <li>・中学生:一律1万円</li> </ul>		○	管理者に支給	×
児童扶養手当	ひとり親家庭	約4.3万円 (子供の数による)	障害児		○	×	○
特別児童扶養手当	障害児	1級 約5.1万円 2級 約3.4万円			○	×	○
障害児福祉手当	心身重度 重複障害	1.5万円			○	×	○
特別障害者手当	重度障害者			2.7万円	○	×	○
障害基礎年金	障害者			1級 約8.1万円 2級 約6.5万円	○	○	○

※母子生活支援施設の入所では支給される

**第30回 問題55**

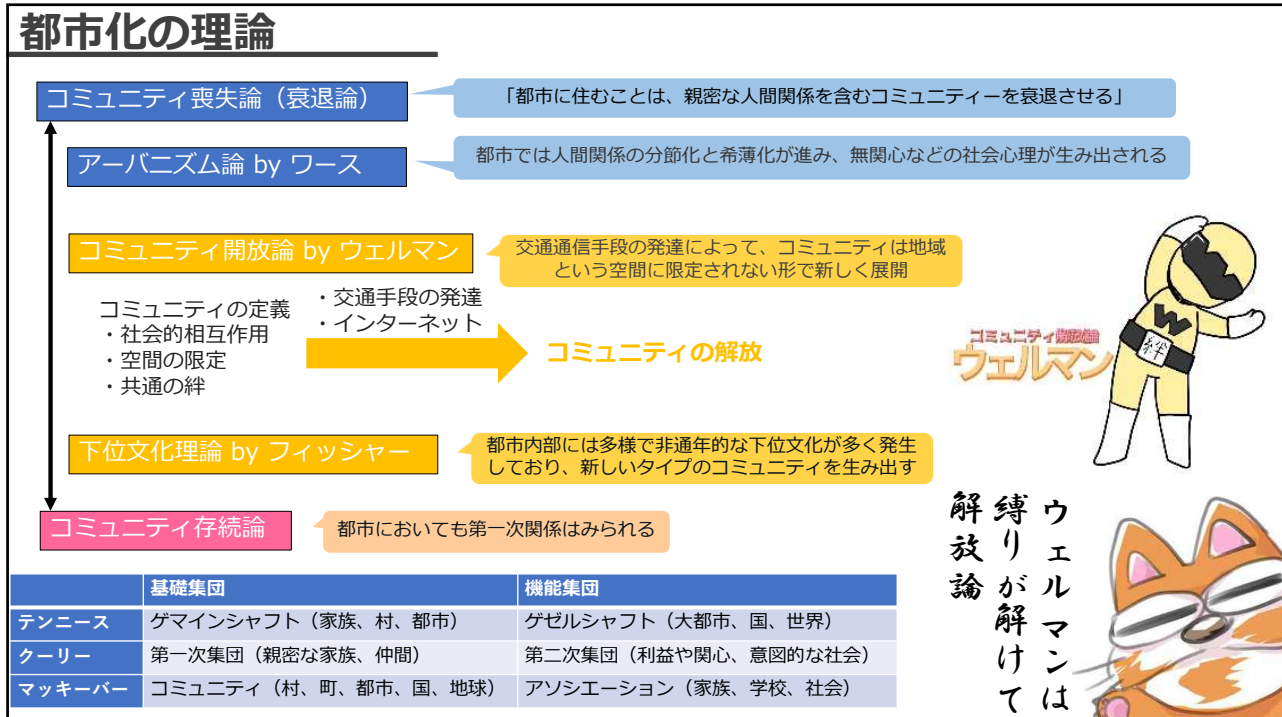
児童手当、児童扶養手当に関する次の記述のうち、最も適切なものを1つ選びなさい。

- 1 児童手当の支給対象となる児童の年齢は、12歳到達後の最初の年度末までである。
- 2 児童手当の費用は、国と地方自治体が50%ずつ負担している。
- 3 児童手当の支給額には、物価スライド制が適用されている。
- 4 児童扶養手当の費用は、国が全額負担する。
- 5 児童扶養手当の支給対象となる児童の年齢は、障害がない子どもの場合、18歳到達後最初の年度末までである。

**模擬問題**

次の児童関係の法律や制度のうち、最も早くに制定されたものとして、正しいものを1つ選びなさい。

- 1 児童手当法
- 2 児童扶養手当法
- 3 特別児童扶養手当法
- 4 母子福祉法
- 5 児童権利条約



### 第30回 問題17

次の記述のうち、ウェルマン（Wellman, B.）の「コミュニティ解放論」の説明として、最も適切なものを1つ選びなさい。

- 1 特定の関心に基づくアソシエーションが、コミュニティを基盤として多様に展開している。
- 2 都市化の進展によってコミュニティは喪失若しくは解体されている。
- 3 都市化が進展しても、近隣を単位としたコミュニティは存続している。
- 4 交通通信手段の発達によって、コミュニティは地域という空間に限定されない形で新しく展開している。
- 5 コミュニティが、地域での自立生活を可能にする対人サービスを提供するようになっている。



**第29回 問題101**

パールマン（Perlman, H.）が提唱した問題解決アプローチの援助技法に関する次の記述のうち、正しいものを1つ選びなさい。

- 1 社会生活技能訓練（SST）の技法を用いる。
- 2 ライフストーリーの書き換えを目指した技法を用いる。
- 3 部分化の技法を用いる。
- 4 強化による行動変容によって適応行動を増やす技法を用いる。
- 5 例外探しの技法を用いる。

**第34回 問題92**

ソーシャルワークの発展に寄与した代表的な研究者とその理論に関する次の記述のうち、最も適切なものを1つ選びなさい。

- 1 ホリス（Hollis, F.）は、「状況の中の人」という視点で、心理社会的アプローチを提唱した。
- 2 トール（Towle, C.）は、「ケースワークは死んだ」という論文を発表し、社会問題へ目を向けることを提唱した。
- 3 パールマン（Perlman, H.）は、社会的要因が心理的要因に従属させられていると指摘し、両者の再統合を提唱した。
- 4 ロビンソン（Robinson, V.）は、内的な特徴と外的な特徴を統合させて人間を理解することを提唱した。
- 5 ハミルトン（Hamilton, G.）は、社会科学とのつながりを意識して、「リッチモンドに帰れ」と原点回帰を提唱した。

## 第28回 問題93

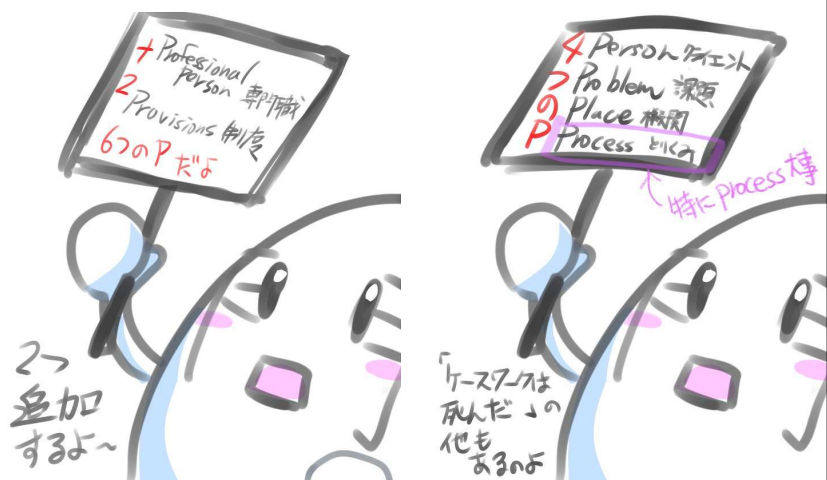
ソーシャルワークの発展に寄与した代表的な研究者とその理論に関する次の記述のうち、正しいものを1つ選びなさい。

- 1 リッチモンド (Richmond, M.) は、ケースワークの過程と対象として、個人に直接働きかける直接的活動と社会環境を通じて働きかける間接的活動を挙げた。
- 2 パールマン (Perlman, H.) は、診断主義と機能主義双方の理論を折衷的に取り入れ、課題中心アプローチを体系化した。
- 3 ハミルトン (Hamilton, G.) は、人とその人を取り巻く状況とその両者の相互作用の視点から「状況の中の人」という概念を提唱した。
- 4 リード (Reid, W.) は、ソーシャルワークの共通基盤として、実践に必須の要素に、「価値の体系」を挙げた。
- 5 ジャーメイン (Germain, C.) とギッターマン (Gitterman, A.) は、役割理論を基盤とし、人と環境との交互作用に焦点を当て両者の調和を目指す理論を説いた。

## 模擬問題

次のうち、パールマン (Perlman, H.H.) が著したソーシャル・ケースワークの4つの要素に該当しないものを1つ選びなさい。

- 1 人 (Person)
- 2 課題 (Problem)
- 3 計画 (Plan)
- 4 過程 (Process)
- 5 場所 (Place)



## 持続可能な開発目標SDGs

### ミレニアム開発目標 (MDGs : Millennium Development Goals)

2000年にニューヨークで開催された国連ミレニアム・サミットで採択された国連ミレニアム宣言を基にまとめられた、開発分野における国際社会共通の目標。MDGsでは、2015年までに達成すべき8つの目標（具体的に示した21のターゲット、進捗状況を測るための60の指標）を掲げ、2015年以降は後継となるSDGsに引き継がれている。

### 持続可能な開発目標 (SDGs : Sustainable Development Goals)

MDGsの後継として2015年の国連サミットで採択された「持続可能な開発のための2030アジェンダ」に記載された2030年までに持続可能でよりよい世界を目指す国際目標。SDGsは17のゴール（具体的な169のターゲット）から構成され、地球上の「誰一人取り残さない (leave no one behind)」ことを誓っている。

#### SDGsポイント3点

- ・持続可能な開発を達成するためには、**経済成長**、**社会的包摂**、**環境保護**という3要素の調和が欠かせない。
  - ・SDGsとターゲットの達成に向けた進捗状況に関し、国内、地域、グローバルのレベルでフォローアップと検証を行う主たる責任は、**各国**にある（法的拘束力はない）。
  - ・政府や市民社会、民間セクターその他、すべてのステークホルダーが貢献することを期待
- （出典：国際連合広報センター SDGs よくある質問より）



## 第32回 問題28

国際連合が掲げている「持続可能な開発目標」(SDGs)に関する次の記述のうち、最も適切なものを1つ選びなさい。

- 2000年に制定されたミレニアム開発目標(MDGs)の目標を破棄し、それに代わる目標を掲げている。
- 経済成長、社会的包摂、人口増加抑制策の調和が、持続可能な開発を達成するために求められている。
- 持続可能な開発の達成には、政府の手を借りることなく民間セクターによる行動が必要とされている。
- 貧困に終止符を打つとともに、気候変動や環境保護への取組も求めている。
- 目標実現に向けた進捗状況のフォローアップと審査の責任は国際連合にあるとし、独立した国際的専門機関を設置している。

（注）「持続可能な開発目標」(SDGs)とは、2015年の国際連合総会において採択された「持続可能な開発のための2030アジェンダ」において掲げられた目標である。

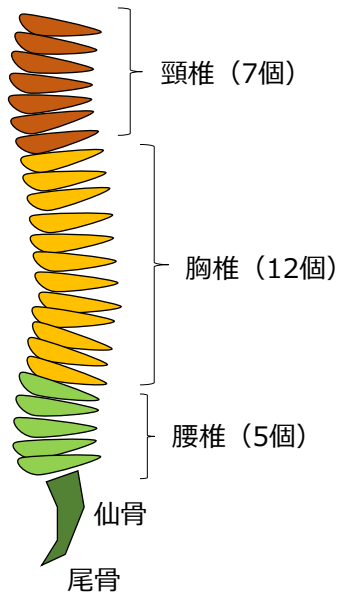
### 第33回 問題24

「人間開発報告書2019（概要版）」（国連開発計画（UNDP））の内容に関する次の記述のうち、最も適切なものを1つ選びなさい。

1 「持続可能な開発目標」（SDGs）中の「2030年までに極度の貧困を全世界で根絶する」という目標を達成する目途が立っている。

### 人体・疾病

<脊髄>



ゴハンの時間に置き換えると絶対に忘れないニャ。



## 第30回 問題2

人体の各器官に関する次の記述のうち、解剖

- 1 頸椎は12個の骨で構成される。
- 2 頸動脈は体表から触知できる。
- 3 大腸は空腸と回腸に分けられる。
- 4 右肺は2つの肺葉からなる。
- 5 胃は横隔膜の上にある。

